

Lerndossier

Uhrzeit




Name: _____

Tagesablauf




Trage die Uhrzeit möglichst genau ein und schreibe dann einen Satz dazu. Verwende hierzu das Wort, welches in Klammern steht.




(aufstehen)

_____ Uhr




(Schulbeginn)

_____ Uhr




(Mittagessen)

_____ Uhr



(Hausaufgaben)

_____ Uhr




(schlafen)

_____ Uhr

Tagesablauf




Trage die Uhrzeit möglichst genau ein und schreibe dann einen Satz dazu. Verwende hierzu das Wort, welches in Klammern steht.




(aufstehen)

___ Uhr




(Schulweg)

___ Uhr



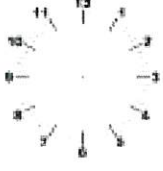
(Schulbeginn)

___ Uhr




(Pause)

___ Uhr



(Heimweg)

___ Uhr




(Hausaufgaben)

___ Uhr




(Rad fahren)

___ Uhr




(spielen)

___ Uhr




(Abendessen)

___ Uhr



(zu Bett gehen)

___ Uhr

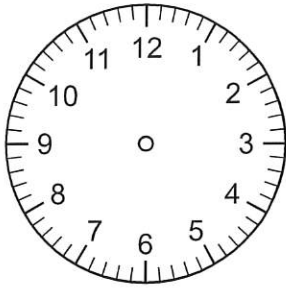


(schlafen)

___ Uhr

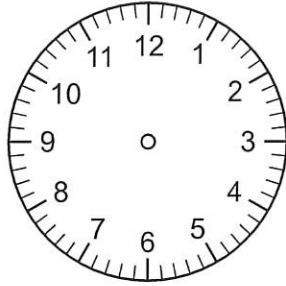
Ein langer Tag in meinem Leben

Um diese Zeit
stehe ich auf:



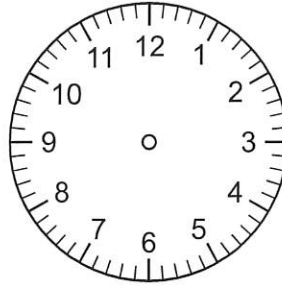
_____ Uhr

Um diese Zeit
Frühstücke ich:



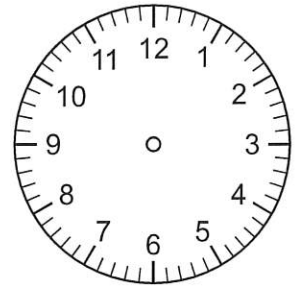
_____ Uhr

Um diese Zeit
laufe ich von Zuhause
in die Schule:



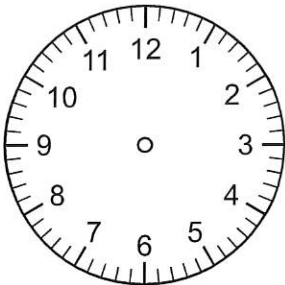
_____ Uhr

Um diese Zeit
beginnt die Schule am
Morgen:



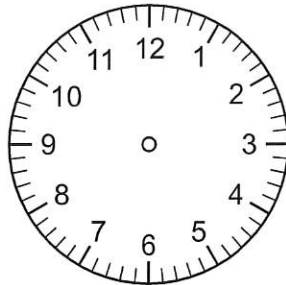
_____ Uhr

Um diese Zeit
ist die Schule am
Mittag aus:



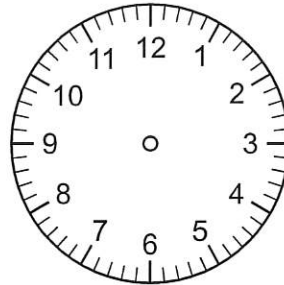
_____ Uhr

Um diese Zeit
essen wir Zmittag



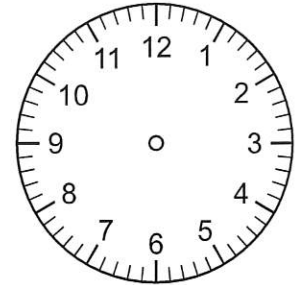
_____ Uhr

Um diese Zeit
beginnt die Schule
am Nachmittag:



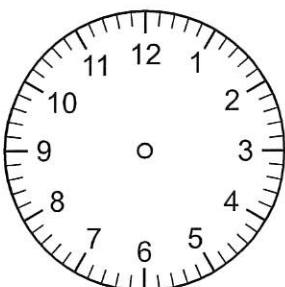
_____ Uhr

Um diese Zeit
ist die Schule am
Nachmittag aus:



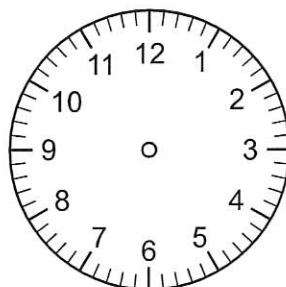
_____ Uhr

Um diese Zeit
mache ich die
Hausaufgaben:



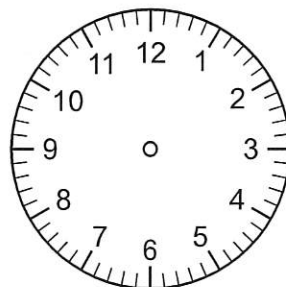
_____ Uhr

Um diese Zeit
spiele ich:



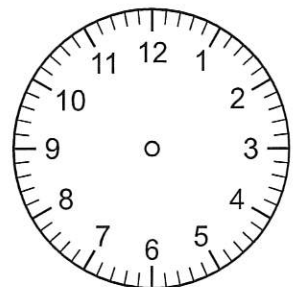
_____ Uhr

Um diese Zeit
essen wir das
Abendessen:



_____ Uhr

Um diese Zeit
gehe ich ins Bett:



_____ Uhr

Jede Stunde hat zwei Namen



Wie nennt man diese Zeiten auch noch?

2 Uhr _____

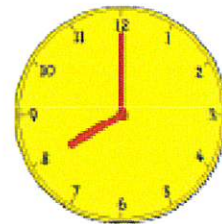



11 Uhr _____

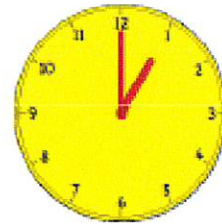

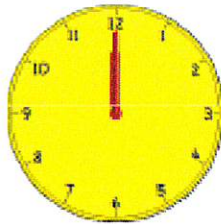
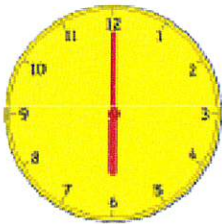
16 Uhr _____

7 Uhr _____

0 Uhr _____ / _____

Wie viel Uhr ist es? Schreibe beide Zeiten auf.





Welche Tageszeit ist es? Schreibe die folgenden Begriffe zur passenden Zeitangabe.

* Morgen * Vormittag * Mittag * Nachmittag * Abend * Nacht *

10 Uhr _____

22 Uhr _____

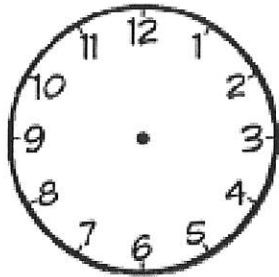
7 Uhr _____

18 Uhr _____

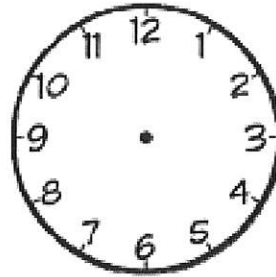
15 Uhr _____

12 Uhr _____

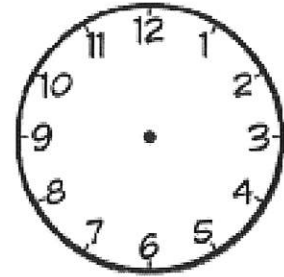
Volle Stunden eintragen und ablesen



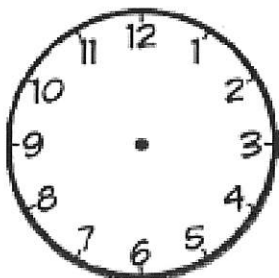
5 : 00 Uhr



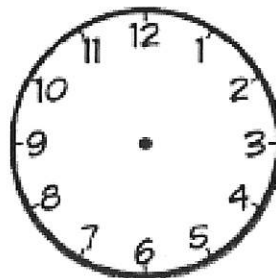
9 : 00 Uhr



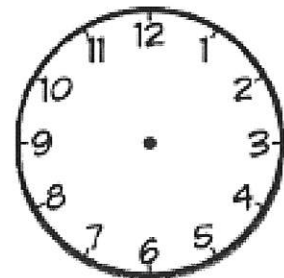
11 : 00 Uhr



1 : 00 Uhr



12 : 00 Uhr



10 : 00 Uhr



___ Uhr / ___ Uhr



___ Uhr / ___ Uhr



___ Uhr / ___ Uhr



___ Uhr / ___ Uhr

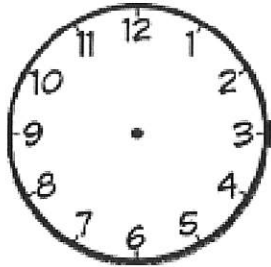


___ Uhr / ___ Uhr

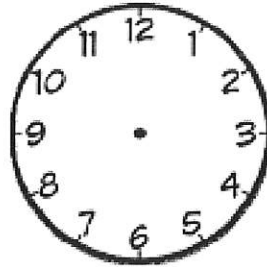


___ Uhr / ___ Uhr

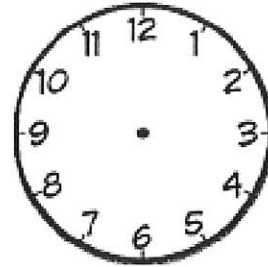
Halbe Stunden eintragen und ablesen



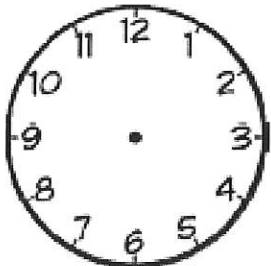
3:30 Uhr



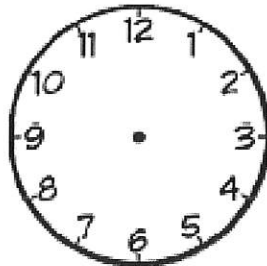
16:30 Uhr



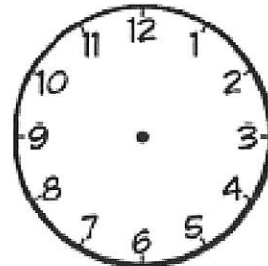
12:30 Uhr



halb 7 Uhr



halb 10 Uhr



halb 2 Uhr



_____ Uhr



_____ Uhr



_____ Uhr



_____ Uhr

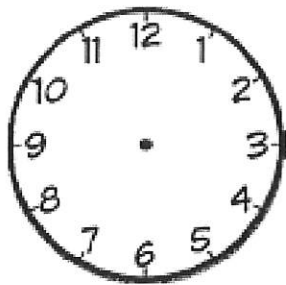


_____ Uhr

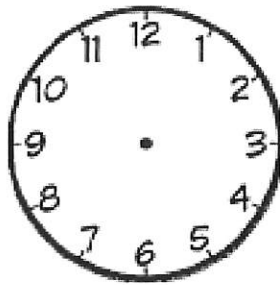


_____ Uhr

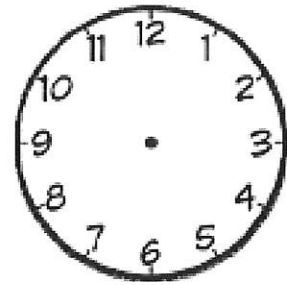
Viertel Stunden eintragen und ablesen



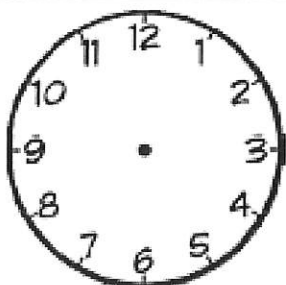
Viertel nach 8 Uhr



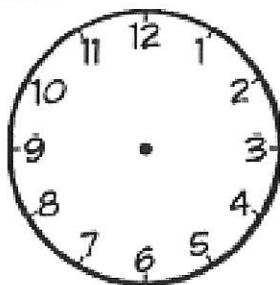
Viertel vor 11 Uhr



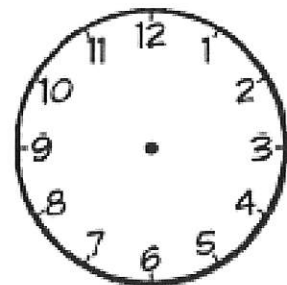
Viertel nach 12 Uhr



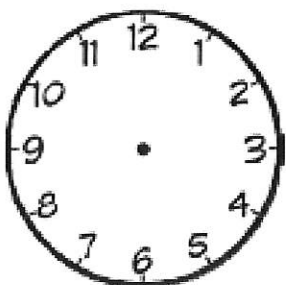
Viertel vor 12 Uhr



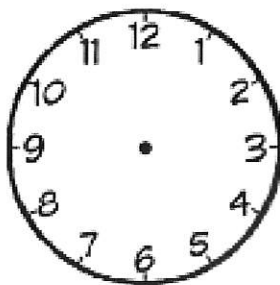
Viertel vor 1 Uhr



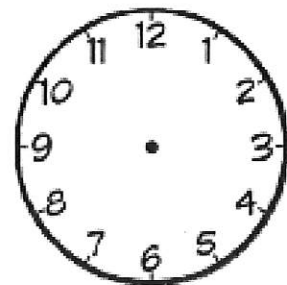
Viertel vor 7 Uhr



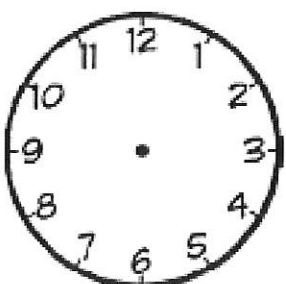
halb neun Uhr



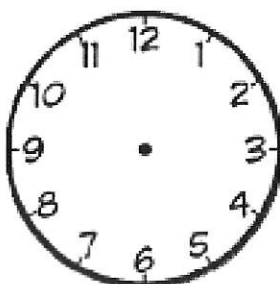
Viertel vor acht Uhr



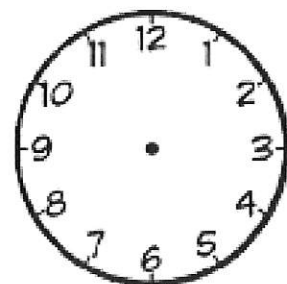
zwölf Uhr



Viertel nach drei Uhr




halb zwölf Uhr




Viertel nach eins



_____ Uhr



_____ Uhr




_____ Uhr



_____ Uhr




_____ Uhr



_____ Uhr



_____ Uhr




_____ Uhr




_____ Uhr



_____ Uhr



_____ Uhr




_____ Uhr



_____ Uhr




_____ Uhr




_____ Uhr



_____ Uhr

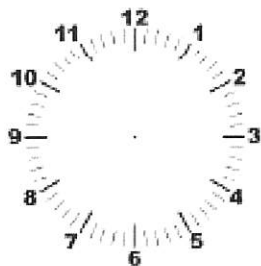


_____ Uhr

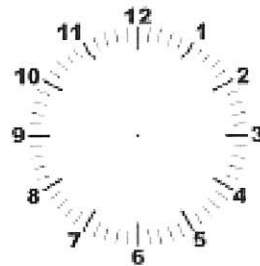


_____ Uhr

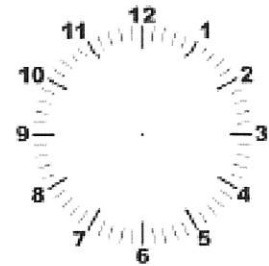
Uhrzeit eintragen



fünf nach zwei Uhr



zwanzig nach drei Uhr



zehn vor neun Uhr



zwanzig vor acht Uhr




halb sieben Uhr



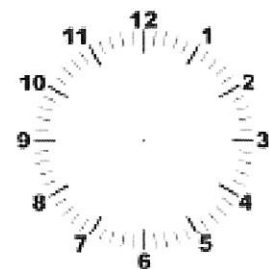
Viertel nach ein Uhr



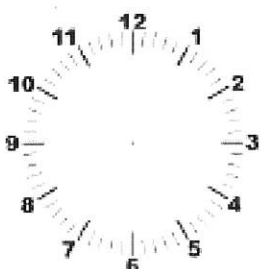
zehn nach drei Uhr




fünf vor halb ein Uhr



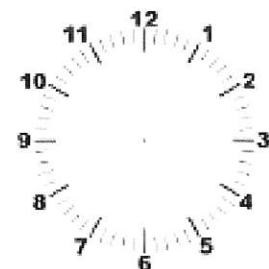
Viertel vor zwölf Uhr



fünf nach halb elf Uhr

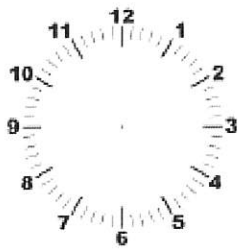


halb zwölf Uhr



fünf vor sieben Uhr

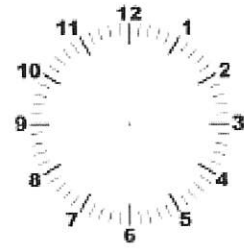
Uhrzeit minutengenau eintragen



10 : 12 Uhr



05 : 42 Uhr



09 : 07 Uhr



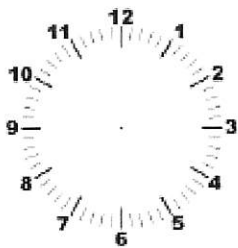
19 : 58 Uhr



12 : 38 Uhr




20 : 24 Uhr



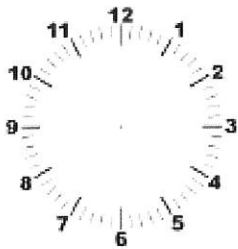
09 : 46 Uhr




15 : 15 Uhr



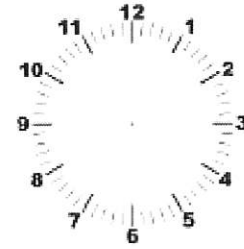
21 : 51 Uhr



11 : 12 Uhr



00 : 14 Uhr



12 : 01 Uhr

Name:

Datum:

Digitale Uhrzeiten

1. Schreibe die Uhrzeit in deiner Schrift dazu.

00:13

12:25

14:57

19:27

05:38

09:36

07:44

10:11



23:52

09:46

2. Fahre die digitalen Zahlen mit Buntstiften nach.

1 2 3 4 5 6 7 8 9

3. Verbinde die passenden Uhrzeiten.



06:50

04:34

11:55

10:15

12:21

22:45

06:56

00:21

